







คำชี้แจง ให้นักเรียนตอบคำถามต่อไปนี้ และทำเครื่องหมาย X ทับบนตัวอักษรข้อที่นักเรียนคิดว่าเป็นคำตอบที่ถูกต้องลงในกระดาษคำตอบ

1.) กลุ่มผลิตภัณฑ์อาหารใดที่นักเรียนอาจไม่พบ สัญลักษณ์โภชนาการ “ทางเลือกสุขภาพ”

- ก. นม
ข. โซดา
ค. น้ำปลา
ง. น้ำมันพืช

2.) หากต้องการเลือกผลิตภัณฑ์อาหารที่มีสารอาหารตามเกณฑ์ที่กำหนดคือ หวานน้อย มันน้อย เค็มน้อย ต้องดูว่าผลิตภัณฑ์นั้นมี สัญลักษณ์ในข้อใด

- ก. 
- ข. 
- ค. 
- ง. 

3.) ข้อใดไม่ใช่ส่วนประกอบของฉลากอาหาร

- ก. วันหมดอายุ
ข. วันจัดจำหน่าย
ค. วิธีการเก็บรักษา
ง. เลขสารบบอาหาร

4.) ข้อความบนฉลากผลิตภัณฑ์อาหารต่อไปนี้ “Exp.15/8/20” หมายถึง อาหารนี้หมดอายุเมื่อใด

- ก. 15 มิถุนายน พ.ศ.2563
ข. 15 กรกฎาคม พ.ศ.2563
ค. 15 สิงหาคม พ.ศ.2563
ง. 18 สิงหาคม พ.ศ.2563

5.) ส่วนประกอบของฉลากอาหารในข้อใดที่เป็นข้อมูลด้าน “ความปลอดภัย” สำหรับผู้บริโภค

- ก. ค่าเค็มน้ำตาล
ข. สถานที่ผลิต
ค. ปริมาณอาหาร
ง. เลขสารบบอาหาร